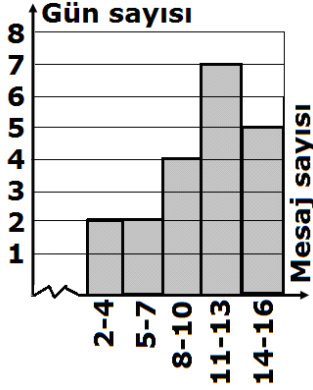


7) Aşağıdaki histogramda Ahmet'in facebookuna 10 gün boyunca gelen günlük toplam mesaj sayıları ve gün sayısı gösterilmiştir.

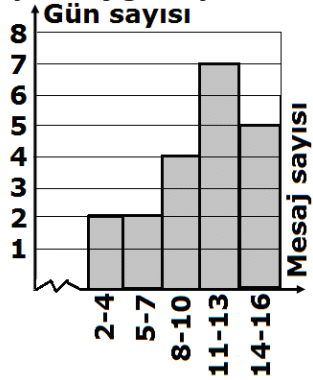
Buna göre, Ahmet'in facebookuna günlük ortalama en az kaç mesaj gelmiştir?



- a)7,21 b)7,46 c)9,65 d)8,25

8) Aşağıdaki histogramda Ahmet'in facebookuna 10 gün boyunca gelen günlük toplam mesaj sayıları ve gün sayısı gösterilmiştir.

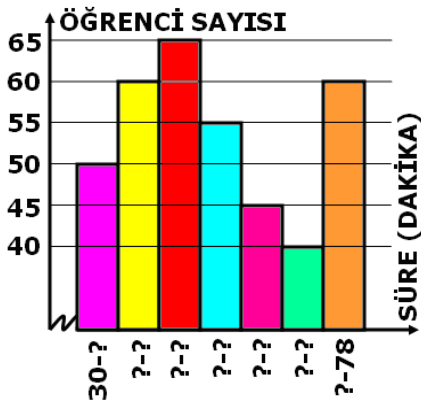
Buna göre, Ahmet'in facebookuna günlük ortalama en fazla kaç mesaj gelmiştir?



- a)11,65 b)12,35 c)10,15 d)13,75

8) Bir Okuldaki öğrencilerin günlük kitap okuma süreleri ile ilgili bazı bilgileri içeren Histogram aşağıda verilmiştir.

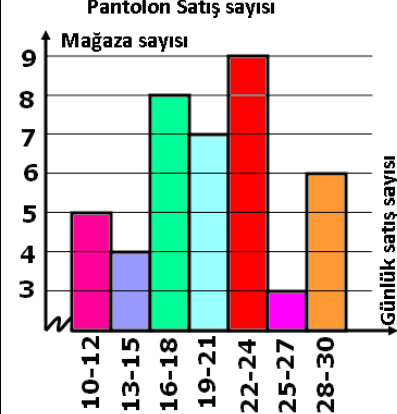
ÖĞRENCİLERİN GÜNLÜK KİTAP OKUMA SÜRELERİ



Histogram tablosunda verilen bilgilere göre, Bu verilerin grup genişliği kaçtır?

- a)7 b)6 c)5 d)8

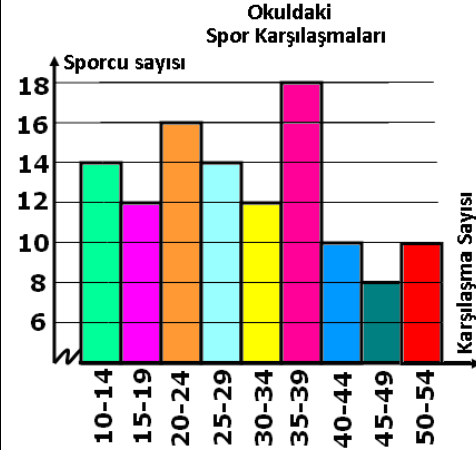
9) Aşağıdaki histogramda bir alışveriş merkezindeki giyim mağazalarının günlük pantolon satış adetleri verilmiştir.



Histogram tablosunda verilen bilgilere göre, Bu veri grubunun grup genişliği kaçtır?

- a)2 b)3 c)4 d)6

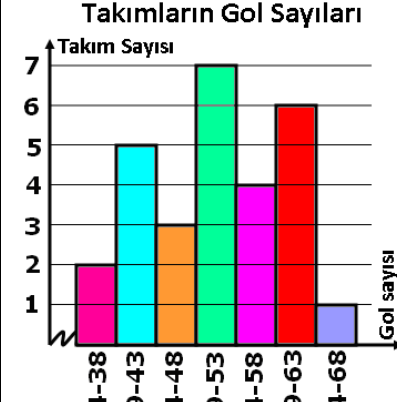
10) Aşağıdaki histogramda bir okuldaki sporcuların yaptıkları spor karşılaşma sayıları verilmiştir.



Histogram tablosunda verilen bilgilere göre, Bu histogramın açıklığı en fazla kaçtır?

- a)44 b)45 c)43 d)46

11) Aşağıdaki histogramda takımların bir sezon içerisinde attıkları gol sayıları verilmiştir.



Histogram tablosunda verilen bilgilere göre, Bu veri grubunun grup genişliği kaçtır?

- a)4 b)5 c)6 d)7